

Dzień dobry.

Proszę aby w ramach lekcji geografii wykonać następujące zadania z działu Afryka. Dla chętnych w piątek o 12:00 (zgodnie z planem lekcji) Quiz. /quizizz.com.join/ z Afryki. Zachęcam. PIN i szczegóły podam na grupie na Messengera (11:45).

Środowisko przyrodnicze Afryki

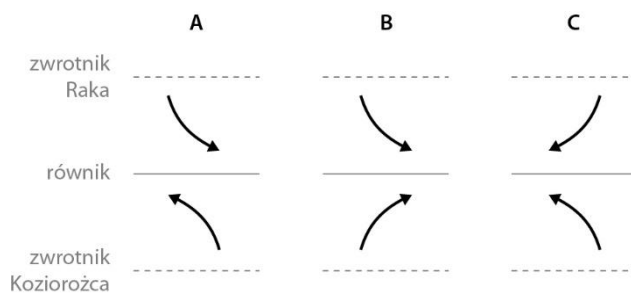
1. Skreśl informacje, które **nie dotyczą** środowiska przyrodniczego Afryki.

0–2 p.

- A. przewaga wyżyn
- B. występowanie tajgi
- C. symetryczny rozkład stref klimatycznych
- D. występowanie rozległych kotlin
- E. słabo rozwinięta linia brzegowa
- F. występowanie najwyższych gór świata

2. Zaznacz schemat przedstawiający prawidłowy kierunek wiatrów stałych – pasatów w strefie międzyzwrotnikowej.

0–1 p.



3. W poniższych zdaniach skreśl niewłaściwe określenia, tak aby informacje o cyrkulacji powietrza w strefie międzyzwrotnikowej były prawdziwe.

0–4 p.

Wilgotne /suche i ciepłe powietrze znad **zwrotnika Raka / równika** wznosi się pionowo do góry. Na pewnej wysokości ulega skropleniu, tworzą się chmury przynoszące **ulewny / słaby** deszcz zenitalny. Następnie powietrze już **chłodne i suche / wilgotne i ciepłe** przemieszcza się w stronę zwrotników.

4. Uzupełnij podane schematy, wpisując brakujące nazwy strefy klimatycznej, strefy roślinnej lub strefy glebowej według wzoru.

0–2 p.

WZÓR: *klimat równikowy (wilgotny) – wilgotne lasy równikowe – czerwonoziemy i gleby ferralitowe*

_____ – pustynie i półpustynie – gleby pustynne, szaroziemy i buroziemy

klimat podrównikowy – _____ – gleby czerwone i gleby
cynamonowoczerwone

Gospodarka Afryki

1. Wymień trzy bariery pozaprzrodnicze rozwoju rolnictwa w Afryce.

0–3 p.

- _____
- _____
- _____

2. Oceń prawdziwość informacji. Zaznacz P, jeśli informacja jest prawdziwa, lub F, jeśli jest fałszywa.

0–5 p.

1.	Podstawową formę gospodarowania w strefie Sahelu stanowi rolnictwo żarowo-odłogowe.	P	F
2.	W Afryce ze względu na występowanie naturalnych pastwisk hoduje się głównie bydło, owce i kozy.	P	F
3.	W ostatnich latach w Afryce dynamicznie rozwijają się usługi telekomunikacyjne.	P	F
4.	Większość państw Afryki ma PKB powyżej 5 tys. USD na 1 mieszkańca.	P	F
5.	Podstawą rozwoju gospodarczego wielu państw Afryki są wpływy ze sprzedaży surowców mineralnych za granicę.	P	F

3. Zaznacz zestaw, w którym podano prawdziwe informacje dotyczące gospodarki Afryki.

0–1 p.

- A. Kontynent afrykański jest zasobny w surowce mineralne, takie jak złoto, platyna, uran czy diamenty.
- B. Ośrodki przemysłowe skupiają się głównie na obszarze położonym wzdłuż zwrotnika Raka.
- C. Około ¼ światowej produkcji kobaltu, chromu i diamentów pochodzi z Afryki.
- D. Przemysł przetwórczy w Afryce to głównie włókiennictwo, hutnictwo i produkcja artykułów spożywczych.

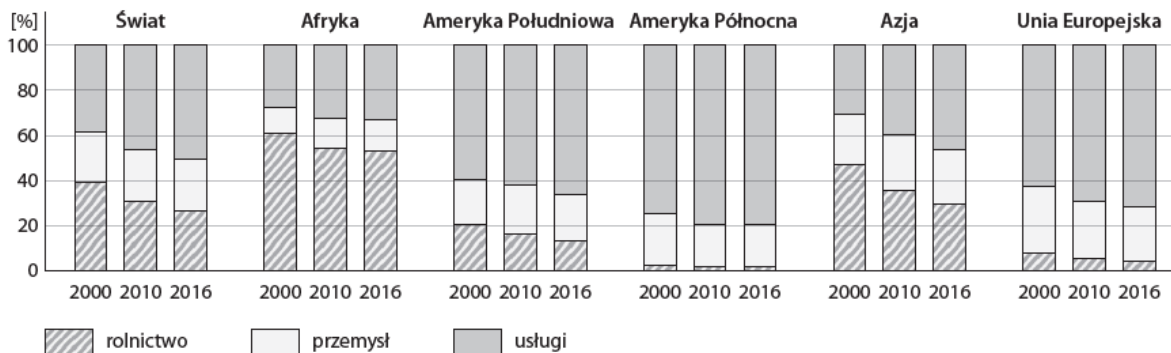
a) A i B b) B i C c) A i D d) C i D

4. Podaj negatywny skutek dla ludności gospodarek państw afrykańskich wynikający z dzierżawienia ziemi i produkcji przeznaczonej dla koncernów zagranicznych.

0–1 p.

Przemysł i usługi w Afryce

1. Poniższy wykres przedstawia strukturę zatrudnienia w sektorach gospodarki na świecie oraz w poszczególnych jego regionach w latach 2000–2016. Na podstawie analizy danych przedstawionych na wykresie wykonaj polecenia.



a) Opisz strukturę zatrudnienia w Afryce i jej zmiany na przestrzeni lat.

b) Porównaj strukturę zatrudnienia w Afryce z wybranymi regionami świata.

2. Poniżej przedstawiono opisy produktów eksportowanych z Afryki, w tym sprowadzanych do Polski. Dopasuj do opisów nazwy produktów oraz nazwy państw będących głównymi producentami tych towarów.

Produkty: przędza bawełniana, ropa naftowa, metale szlachetne, uran, kobalt, rudy żelaza, diamenty.
Państwa: Republika Południowej Afryki, Liberia, Egipt, DR Kongo, Botswana, Namibia, Nigeria.

Opis produktu	Produkt	Państwo – główny eksporter
Produkt z rośliny włóknistej, gotowy do produkcji tkanin		
Metale odporne chemicznie, np. złoto i platyna		
Stosowana do wyrobu rdzeni elektromagnesów, produkcji stopów (stal, żeliwo), farb, materiałów ściernych		
Używany głównie do produkcji litowych baterii do smartfonów		
Najtwardszy minerał na ziemi, jest to czysty węgiel		
Srebrzystobiały metal ulegający rozpadowi radioaktywnemu, w którego procesie wytwarza się energię		

Ciekła kopalina występująca w skałach osadowych		
---	--	--

3. Na podstawie podręcznika, fragmentu tekstu źródłowego i poniższych map tematycznych uzupełnij tabelę.

Choć dziś Afryka to najbiedniejszy region świata, to w dłuższej perspektywie oczekujemy jej dynamicznego rozwoju. Atutem Afryki w kontekście gospodarczym jest wyjątkowo szybki przyrost liczby ludności. W tej chwili kontynent zamieszkuje około 1,2 mld ludzi, a w 2015 r. urodziło się około 30 mln dzieci. Zakładając stabilny wzrost gospodarczy państw afrykańskich w perspektywie długoterminowej, możemy oczekiwać dynamicznego wzrostu grupy potencjalnych klientów (lub potencjalnych pracowników, jeśli ktoś planuje inwestycję) ze stale rosnącą siłą nabywczą.

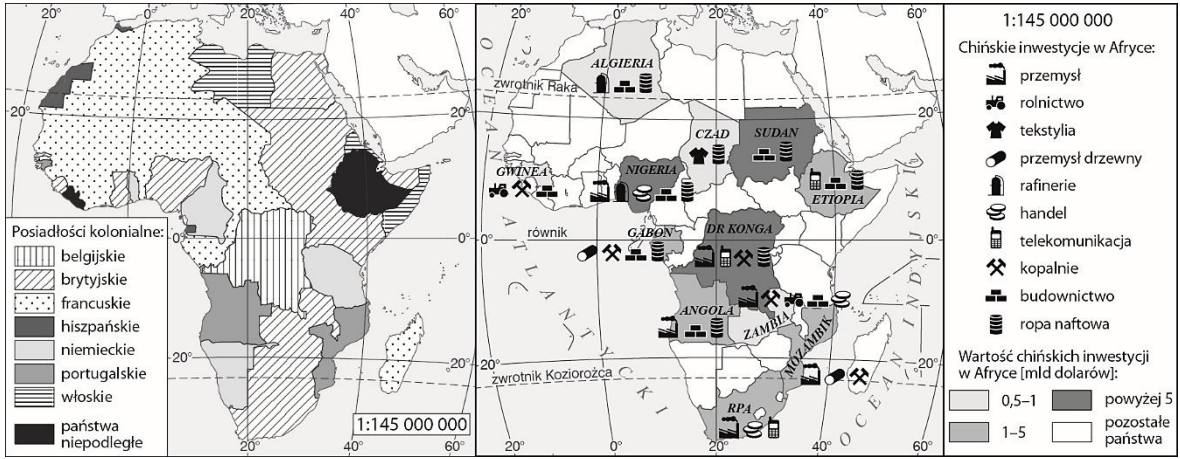
Afryka jest kontynentem niezwykle zasobnym w bogactwa naturalne, których wielkość nigdy nie została w całości szacowana, a wiele z nich jest ciągle nieeksploatowanych. Znaleźć możemy tutaj rudy żelaza, miedzi, niklu, manganu, antymonu, chromu, a także bogate złoża złota, srebra, platyny, uranu i diamentów. W Afryce występują także bogate złoża ropy naftowej, gazu ziemnego i węgla kamiennego.

Choć rolnictwo jest wyjątkowo istotną częścią afrykańskiej gospodarki, a także głównym sektorem zatrudnienia, to jest ono bardzo słabo zmechanizowane. Inwestycje w technologie prowadzące do rozwoju gospodarki rolnej w Afryce mają potencjał, aby zmniejszyć ubóstwo i głód, ale także poprawić konkurencyjność afrykańskich rolników na światowych rynkach.

Do coraz prężniej rozwijającego się sektora gospodarki należy turystyka, która w wielu krajach afrykańskich jest głównym motorem napędowym PKB. Obok znanych lokalizacji, takich jak Egipt, Tunezja, Maroko i RPA, coraz mocniejszą turystykę stawiają Namibia, Botswana, Mozambik i Kenia.

Głównym zagrożeniem, a także czynnikiem odpowiadającym za dotychczasowe zacofanie gospodarcze krajów Afryki, jest przede wszystkim niestabilność polityczna i częste konflikty, przeradzające się czasem w krwawe wojny, a także wszechobecna korupcja, biurokracja i nieefektywne, despotyczne rządy.

Źródło: <https://blog.pfr.pl/2018/01/17/afryka-kontynent-wielkich-perspektyw-i-mozliwosci>



Przyczyny niskiego poziomu gospodarczego państw Afryki	Możliwości rozwoju gospodarczego państw Afryki

4. Na poniższych fotografiach przedstawiono wybrane atrakcje turystyczne Afryki. Podaj ich nazwy oraz nazwy krajów, na których obszarze się one znajdują.

