

Dzień dobry.

Drodzy Uczniowie i Rodzice klasy VI proszę aby w ramach powtórki zrobić następujące zadania z wybranych tematów z działu „Środowisko przyrodnicze i ludność Europy”:

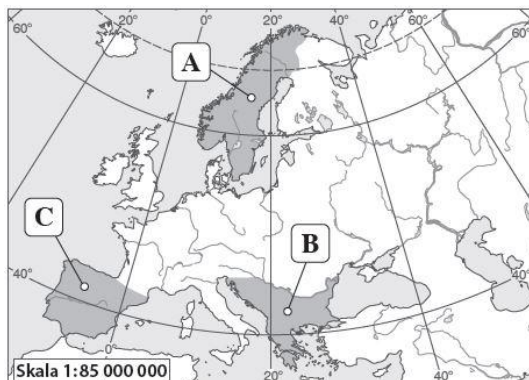
Temat: *Położenie i ukształtowanie powierzchni Europy*

1. Na mapie literami A, B i C zaznaczono największe europejskie półwyspy. Podaj ich nazwy. **0–3 p.**

A. _____

B. _____

C. _____

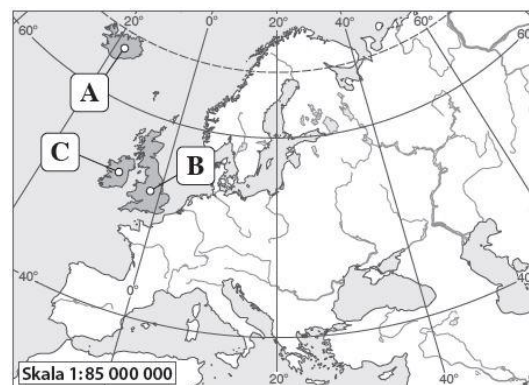


2. Na mapie literami A, B i C zaznaczono największe europejskie półwyspy. Podaj ich nazwy. **0–3 p.**

A. _____

B. _____

C. _____



3. Skreśl zbędne wyrazy tak, aby podane zdania zawierały prawdziwe informacje. **0–6 p.**

A. Europa ma bardzo **krótką** / **długą** linię brzegową.

B. Przeważającą część Europy zajmują **niziny** / **wyżyny**.

C. Granica między Europą a Azją biegnie w dużej części przez **morza** / **łądy**.

D. Zachodnie wybrzeża Europy są oblewane przez wody **Oceanu Arktycznego** / **Oceanu Atlantyckiego**.

E. Przeważającą część Europy zajmują **niziny** / **góry**.

F. Granica między Europą a Azją biegnie w dużej części podnóżem **gór Uralu** / **Gór Dynarskich**.

4. Oceń, czy podane informacje są zgodne z prawdą. Zaznacz literę P, jeśli informacja jest prawdziwa, lub literę F, jeśli jest fałszywa. **0–6 p.**

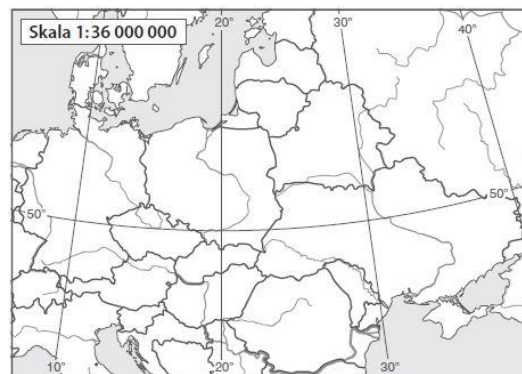
1.	Najwyższym szczytem Europy jest leżący w Karpatach Mont Blanc.	P	F
2.	Góry Skandynawskie znajdują się w północnej części kontynentu europejskiego.	P	F
3.	Łądogłód był ważnym czynnikiem kształtującym rzeźbę południowych terenów Europy.	P	F
4.	Najniżej położony punkt Europy (28 m p.p.m.) znajduje się na Wyżynie Środkoworosyjskiej.	P	F
5.	Na Pojezierzu Fińskim występuje rzeźba polodowcowa.	P	F
6.	Najwyższym szczytem Europy jest leżący w Alpach Mont Blanc.	P	F

Temat: Podział polityczny Europy

1. Wpisz we właściwych miejscach na mapie litery odpowiadające nazwom państw sąsiadujących z Polską.

0-4 p.

- A. Słowacja C. Niemcy
B. Rosja D. Ukraina



2. Skreśl zbędne wyrazy tak, aby podane zdania zawierały prawdziwe informacje.

0-6 p.

- A. Na kontynencie europejskim znajduje się **47 / 57** państw.
B. Największym krajem na kontynencie europejskim jest **Ukraina / Rosja**.
C. Krajem, którego terytorium znajduje się zarówno w Europie, jak i w Azji, jest **Turcja / Białoruś**.
D. Najmniejszym państwem na kontynencie europejskim jest **Watykan / Malta**.
E. Krajem, którego terytorium znajduje się zarówno w Europie, jak i w Azji, jest **Białoruś / Kazachstan**.
F. Najmłodszym państwem Europy jest **Słowenia / Kosowo**.

3. Oceń, czy podane informacje są zgodne z prawdą. Zaznacz literę P, jeśli informacja jest prawdziwa, lub literę F, jeśli jest fałszywa.

0-6 p.

1.	Do Unii Europejskiej należy obecnie 15 państw.	P	F
2.	Obywatele Unii Europejskiej mogą podejmować pracę i naukę w różnych krajach członkowskich.	P	F
3.	Państwa założycielskie Unii Europejskiej to: Francja, Niemcy, Włochy, Belgia, Holandia i Luksemburg.	P	F
4.	W Unii Europejskiej obowiązuje zasada swobodnego handlu oraz przepływu osób.	P	F
5.	Państwa założycielskie Unii Europejskiej to: Niemcy, Francja, Włochy, Wielka Brytania, Belgia i Hiszpania.	P	F
6.	Do Unii Europejskiej należy większość państw Europy, w tym Polska.	P	F