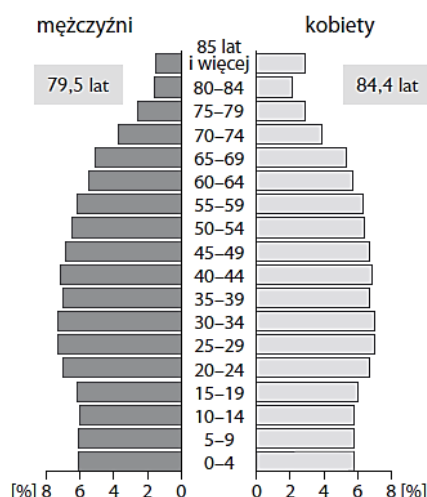


Temat: Ludność i gospodarka Australii (05.06.2020)

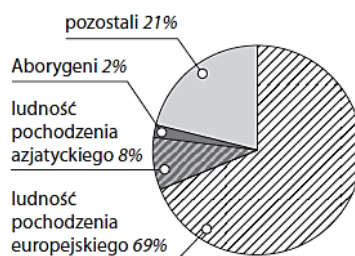
Dzień dobry.

Zachęcam do wykonania następujących poleceń na podstawie tekstu z podręcznika str. 162. Pracy w tym tygodniu nie przysyłamy.

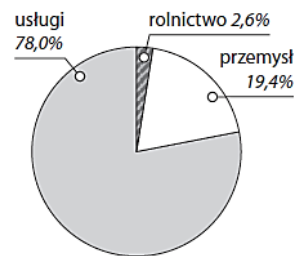
Na podstawie analizy poniższych wykresów, atlasu geograficznego oraz podręcznika wykonaj polecenia.



Piramida wieku i płci ludności Australii oraz średnia długość życia kobiet i mężczyzn w Australii



Pochodzenie ludności Australii



Struktura zatrudnienia ludności Australii

1. Ocen prawdziwość podanych informacji. Zaznacz P, jeśli informacja jest prawdziwa, lub F, jeśli jest fałszywa.

1.	Większość mieszkańców Australii ma pochodzenie azjatyckie.	P	F
2.	Spółeczeństwo Australii określa się jako młode.	P	F
3.	Średnia długość życia Australijczyków wynosi 81,9 lat.	P	F
4.	Okolo 10% ludności Australii mieszka na wsi.	P	F
5.	Okolo 3/4 mieszkańców Australii pracuje w usługach.	P	F

2. Wyjaśnij, kim są Aborygeni, a następnie krótko opisz, jak zmieniło się ich życie w XX wieku.

3. Zapisz nazwy:

zwierząt hodowanych w Australii – _____

roślin uprawianych w Australii – _____

4. Podkreśl przy każdym z wymienionych obszarów Australii wydobywany na jego terenie surowiec mineralny.

- Półwysep Jork – złoto, boksyty, ropa naftowa.
- Kimberly – diamenty, węgiel kamienny, rudy żelaza.
- Tasmania – węgiel brunatny, rudy miedzi, rubiny.
- Ziemia Arnhema – sól kamienna, rudy uranu, szmaragdy.

5. Ułóż program wycieczki turystycznej po Australii i Oceanii. Wybierz przynajmniej pięć miejsc, które według Ciebie warto odwiedzić. Uzasadnij wybór każdego z miejsc.

1. _____

2. _____

3. _____

4. _____

5. _____
